

問題 1. 日本における令和元(2019)年の総人口に占める老年人口の割合に最も近いのはどれか。

1. 12%
2. 15%
3. 28%
4. 60%

問題 2. 日本における令和元(2019)年の業務上疾病で発生件数が最も多いのはどれか。

1. 異常温度条件による疾病
2. 負傷に起因する疾病
3. じん肺症およびじん肺合併症
4. 病原体による疾病

問題 3. 30歳の公務員に適応される医療保険制度はどれか。

1. 後期高齢者医療制度
2. 介護保険
3. 共済組合
4. 国民健康保険

問題 4. 患者の自己決定に最も関与するのはどれか。

1. インフォームド・コンセント
2. コンプライアンス
3. パターナリズム
4. スピーチロック

問題 5. 看護師の守秘義務を規定しているのはどれか。

1. 刑法
2. 医療法
3. 保健師助産師看護師法
4. 看護師等の人材確保の促進に関する法律

問題 6. 患者の QOL を高めるうえで最も重要なのはどれか。

1. 生存期間の延長をはかる。
2. 本人が満足感を得られる援助を行う。
3. 家族の希望を第一に尊重する。
4. 在院日数の短縮を重視する。

問題 7. 妊娠の行動や状態で胎児の先天異常の要因となるのはどれか。

1. 妊娠前の飲酒習慣
2. インフルエンザの予防接種
3. 風疹感染
4. 前置胎盤

問題 8. 脊柱において 7 個の椎骨で構成されているのはどれか。

1. 頸椎
2. 胸椎
3. 腰椎
4. 尾骨

問題 9. 死の三徴候に含まれるのはどれか。

1. 呼吸停止
2. 瞳孔縮小
3. 平坦脳波
4. 体温低下

問題 10. チアノーゼを観察しやすい部位はどれか。

1. 頭皮
2. 鼻根
3. 爪床
4. 足底

問題 11. 電氣的除細動の適応となるのはどれか。

1. 洞不全症候群
2. 房室ブロック
3. 期外収縮
4. 心室細動

問題 12. 頻回の嘔吐で起こりやすいのはどれか。

1. 高クロール血症
2. 高カリウム血症
3. アルカローシス
4. アシドーシス

問題 13. 欠乏により巨赤芽球性貧血が起こるのはどれか。

1. ビタミン A
2. ビタミン B₁₂
3. ビタミン C
4. ビタミン D

問題 14. 生活習慣病はどれか。

1. 1型糖尿病
2. 白ろう病
3. 脂質異常症
4. 成人 T 細胞白血病

問題 15. コレラ菌感染による特徴的な症状はどれか。

1. くしゃみ、鼻汁
2. 全身の関節痛
3. 味覚・嗅覚の消失
4. 米のとぎ汁様便

問題 16. 狭心症発作時に使用するのはどれか。

1. ペニシリン系薬
2. リドカイン塩酸塩
3. ニトログリセリン
4. テオフィリン

問題 17. 麻薬性鎮痛薬について正しいのはどれか。

1. 薬物依存性はない。
2. 主に末梢神経系に作用する。
3. 副作用として悪心・嘔吐の出現は少ない。
4. 副作用として呼吸抑制が出現することがある。

問題 18. 患者との最初の面接場面における看護師の態度として適切なのはどれか。

1. 同情
2. 批評
3. 沈黙
4. 傾聴

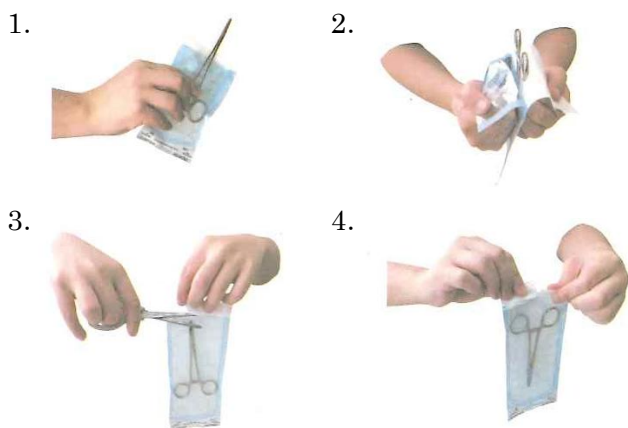
問題 19. 導尿を行う場合、カテーテルに潤滑剤として使用が推奨されるのはどれか。

1. 白色ワセリン
2. 生理食塩水
3. 滅菌グリセリン
4. ポピドンヨード軟膏

問題 20. グリセリン浣腸の効果で正しいのはどれか。

1. 腸管の蠕動を抑制する。
2. 腸管内の炎症を抑える。
3. 固形化した便を軟らかくする。
4. 腸壁が水分を速やかに吸収する。

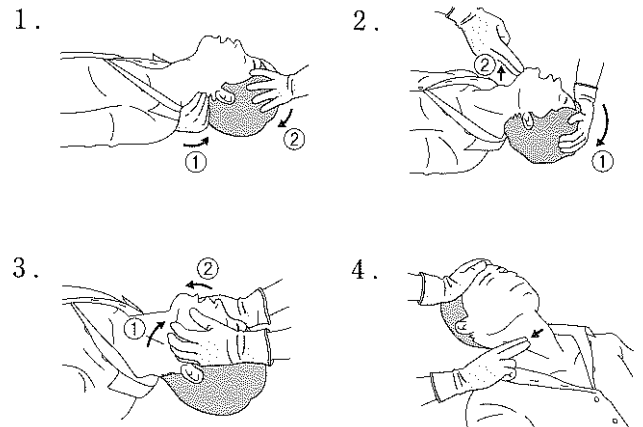
問題 21. 滅菌パックから鉗子を取り出すとき、正しいのはどれか。



問題 22. 酸素ボンベ内の残留酸素量を算出するために確認するのはどれか。

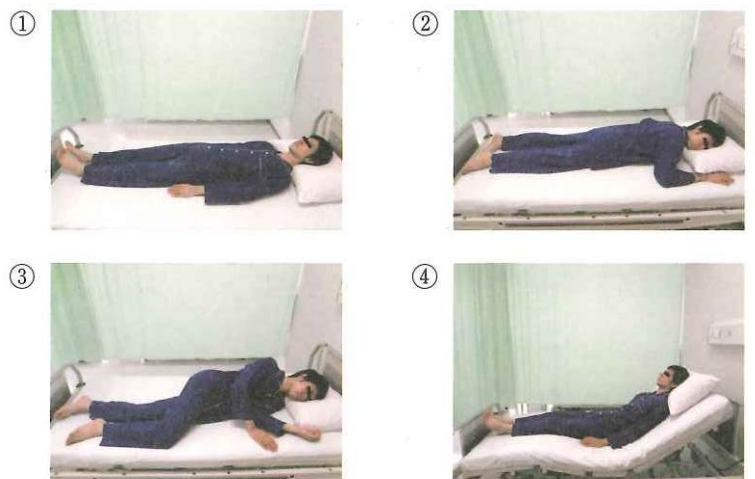
1. 圧力計の示す値
2. 酸素流量計の目盛り
3. 加湿ビン内の気泡の量
4. 酸素ボンベに記載されている値

問題 23. 気道確保の方法を示す。頭部後屈顎挙上法はどれか。



矢印は動かす方向、数字は動かす順番を示す

問題 24. 体位の写真を示す。大転子部に褥瘡ができやすい体位はどれか。



問題 25. 訪問看護ステーションの管理者になることができるのはどれか。

1. 医師
2. 歯科医師
3. 看護師
4. 准看護師
5. 理学療法士

問題 26. 日本における令和元(2019)年の部位別にみた悪性新生物の死亡数で、女性で最も多い部位はどれか。

1. 胃
2. 乳房
3. 気管、気管支及び肺
4. 結腸と直腸 S 錠結腸移行部および直腸

問題 27. 令和元(2019)年国民生活基礎調査における男性の有訴者の自覚症状で最も多いのはどれか。

1. 腰痛
2. 肩こり
3. 手足の関節が痛む
4. 鼻がつまる・鼻汁が出る

問題 28. 介護保険の給付はどれか。

1. 育児休業給付
2. 介護休業給付
3. 予防給付
4. 療養の給付

問題 29. 患者の権利を擁護しているのはどれか。

1. セカンドオピニオン
2. ノーマライゼーション
3. リビングウィル
4. アドボカシー

問題 30. 思春期にみられる特徴はどれか。

1. 分離不安
2. 心理的離乳
3. モラトリアム
4. 第一反抗期

問題 31. 医療法において、診療所は「患者を入院させるための施設を有しないもの又は()以下の患者を入院させるための施設を有するもの」と定義されている。()に入るのはどれか。

1. 19 人
2. 20 人
3. 200 人
4. 400 人

問題 32. 心臓の栄養血管はどれか。

1. 胸大動脈
2. 冠状動脈
3. 肺動脈
4. 肺静脈

問題 33. 成人の体内水分の体重に占める割合で正しいのはどれか。

1. 体液は約 40%
2. 血漿水分は約 30%
3. 細胞外液は約 20%
4. 組織間液は約 10%

問題 34. 体温の恒常性を保つ中枢が存在するのは？

1. 小脳
2. 延髄
3. 脊髄
4. 視床下部

問題 35. 肺の図を示す。斜線部が示すのはどれか。

1. 縦隔
2. 胸膜腔
3. 右下葉
4. 左下葉



問題 36. 刺激しなくても覚醒しているが、自分の名前が言えない患者の JCS による評価はどれか。

1. I-1
2. I-3
3. II-20
4. III-300

問題 37. 黄疸の患者に起こりやすい症状はどれか。

1. アセトン臭
2. 黒色便
3. 掻痒感
4. 血尿

問題 38. 絞扼感を伴う強い胸痛が 5~15 分程度みられるのはどれか。

1. 狭心症
2. 自然気胸
3. 肋間神経痛
4. 大動脈解離

問題 39. おもな感染経路が血液感染なのはどれか。

1. 結核
2. A 型肝炎
3. C 型肝炎
4. ノロウイルス感染症

問題 40. 抗癌薬による骨髄機能抑制症状はどれか。

1. 易感染
2. 食欲不振
3. 皮膚炎
4. 末梢神経障害

問題 41. 服用時にグレープフルーツジュースの摂取を避けたほうがよいのはどれか。

1. 鉄剤
2. アスピリン
3. カルシウム拮抗薬
4. ニューキノロン系抗菌薬

問題 42. 開かれた質問はどれか。

1. 「薬は飲みましたか」
2. 「昨夜は眠れましたか」
3. 「気分は悪くありませんか」
4. 「退院後の生活をどのようにお考えですか」

問題 43. ベッド上での患者の水平移動の援助で適切なのはどれか。

1. 腕力で持ち上げるようにして患者を移動させる。
2. 看護師の基底面積を狭くする。
3. 患者の両腕を胸の前で組む。
4. 頸部と腰部にできるだけ浅く腕を差し込む。

問題 44. 廃用症候群の予防で正しいのはどれか。

1. 体位変換
2. 冷電法
3. 安静臥床
4. 蛋白質制限食の提供

問題 45. 左上肢に輸液療法中の患者に対する寝衣交換の原則で適切なのはどれか。

1. 右から脱がせて、左から着せる。
2. 右から脱がせて、右から着せる。
3. 左から脱がせて、右から着せる。
4. 左から脱がせて、左から着せる。

問題 46. 標準予防策〈スタンダードプリコーション〉で感染源として扱うのはどれか。

1. 汗
2. 爪
3. 毛髪
4. 唾液

問題 47. 血液の付着した注射針を廃棄する容器の表示マークの色はどれか。

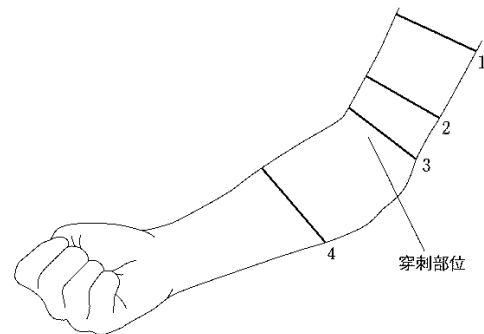
1. 赤
2. 橙
3. 黄
4. 黒

問題 48. 点滴静脈内注射時に血管外に輸液が漏れた場合の徴候はどれか。

1. 血圧の低下
2. 滴下速度の上昇
3. 刺入部位の腫脹
4. 急激な体温上昇

問題 49. 肘正中皮静脈で採血をする場合の駆血帯を巻く位置を示す。適切なのはどれか。

1. 穿刺部位より 15cm 上
2. 穿刺部位より 7cm 上
3. 穿刺部位より 3cm 上
4. 穿刺部位より 15cm 下



問題 50. 日本の令和元(2019)年における家族の世帯構造で最も多いのはどれか。

1. 三世代世帯
2. ひとり親と未婚の子のみの世帯
3. 夫婦と未婚の子のみの世帯
4. 夫婦のみの世帯
5. 単独世帯